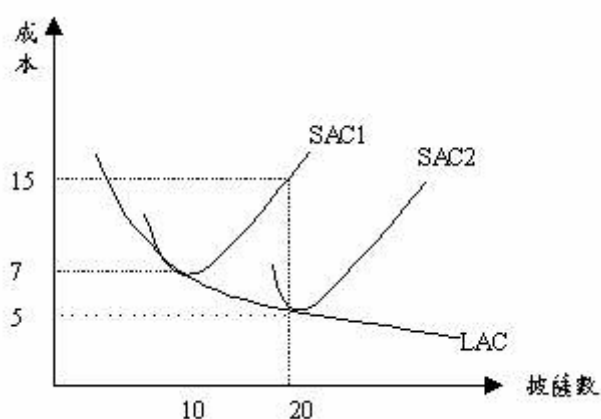
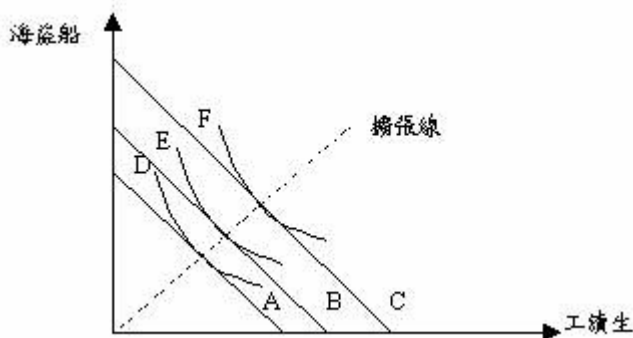


1. 香菸市場僅有甲與乙二人，其需求函數分別為 $Q = 10 - P$ 和 $Q = 6 - 2P$ ，在何種情形下市場僅剩甲一人願意消費 A) 價格大於等於 2 B) 價格大於等於 3 且小於 10 C) 甲與乙二人皆願意消費 D) 價格大於等於 10
2. 若 X 的需求函數為 $P = 10 - Q + 0.5S + 0.2I$ ，S 為 Y 之價格而 I 表示所得，則下列何者正確 A) X 為劣等品且與 Y 為互補品 B) X 為正常品且與 Y 為互補品 C) X 為劣等品且與 Y 為替代品 D) X 為正常品且與 Y 為替代品
3. 供給曲線不受下列何者所影響 A) 生產技術的提升 B) 政府對生產者課稅 C) 商品需求的變動 D) 生產要素價格的變化
4. 需求法則 (law of demand) 隱含下列何者 A) 某物品價格上升，則該物品需求量下降 B) 所得上升，則該物品需求量上升 C) 某物品價格上升，則該物品需求量上升 D) 某物品需求量上升，則該物品價格下降
5. 牛肉價格上升 5% 使雞肉的需求量增加 2%，由此可知 A) 雞肉的需求彈性為 2.5 B) 雞肉對牛肉的交叉彈性為 0.4 C) 雞肉為一正常品 D) 牛肉與雞肉為互補品
6. 若需求曲線變動導致均衡價格大幅變動而均衡數量變動較小，則 A) 供給曲線為垂直線 B) 供給彈性甚大 C) 供給彈性大小無法判斷 D) 供給彈性甚小
7. 蔬菜通常需要種植一段時間才能在市場上販售，因此短期間 A) 蔬菜的供給彈性固定 B) 蔬菜的供給彈性須視替代品多寡而定 C) 蔬菜的供給彈性很大 D) 蔬菜的供給彈性很小
8. 政府對某物課徵從量稅 5 元使得消費者與供應者分別負擔 4 元與 1 元，由此可推測 A) 消費者需求為完全無彈性 B) 無法推測消費者需求彈性大小 C) 消費者需求彈性很小 D) 消費者需求彈性很大
9. 在邊際效用為正的假設下，下列何種情形不可能出現 A) 消費增加則效用增加 B) 有厚度的無異曲線 C) 無異曲線為負斜率 D) 消費者不會有最大滿足點
10. 下列關於邊際替代率之敘述何者正確 A) 邊際效用遞減表示邊際替代率遞減 B) 刻畫消費者對商品的主觀取捨兌換比 C) 邊際替代率遞減表示邊際效用遞減 D) 邊際替代率遞減隱含無異曲線凹向原點
11. 某一劣等財違反需求法則，其可能原因為 A) 替代效果大於所得效果 B) 替代效果與所得效果符號相反 C) 所得效果大於替代效果 D) 替代效果等於所得效果
12. 某兩商品之價格相同，某人之無異曲線凸向原點，則購買此商品的最適決策為 A) 僅購買其中一種商品 B) 無法推測其最適決策 C) 購買相同之數量 D) 使兩商品之邊際效用相等
13. 下圖為達美樂披薩店的長期與短期成本圖，達美樂生產 10 個披薩，其平均成本為 7 元 A) 達美樂的生產具有規模不經濟 B) SAC2 線所代表的資本規模比 SAC1 大 C) 達美樂的生產力低落，導致長期成本線下降 D) 長期而言，達美樂生產的披薩由 10 個增加到 20 個，總成本上升 10 元

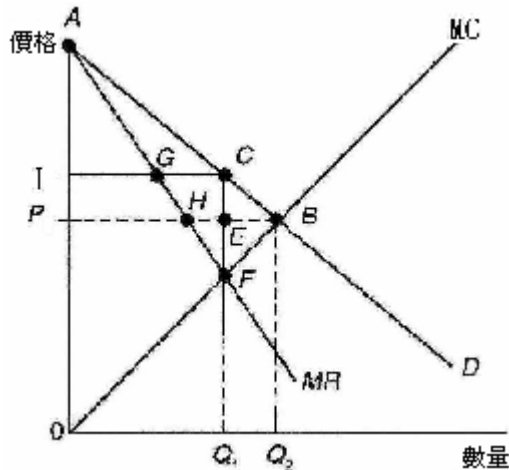


14. 中華電信服務網的生產函數為 $Q=2L+3K$ ，請問下列敘述何者錯誤？ A) 邊際技術替代率為固定的數值 B) L 與 K 在生產上是完全互補的關係 C) 勞動邊際產量為 2 D) 資本邊際產量為 3
15. 短期而言，當固定生產要素的價格上升時？ A) 邊際成本線、平均成本線均不變 B) 邊際成本線上移，平均成本線不變 C) 邊際成本線不變，平均成本線上移 D) 邊際成本線、平均成本線均上移
16. 下圖為六福村的要素組合圖，請問下列敘述何者為誤？ A) 當六福村試圖由 D 的產量擴大產能時，其等成本線可能會由 A 線移至 B 線或 C 線 B) 當海盜船的利息成本下降，會使六福村的等成本線移動 C) 六福村的長期平均成本線為水平線 D) 擴張線上的各點皆以最低成本來生產



17. 假設高雄的泡沫紅茶店為完全競爭市場，其中有 100 家泡沫紅茶店，每家的短期邊際成本線均為 $MC=2q+5$ ，當市場需求線為 $Q=350-10P$ 時，市場短期均衡下的價格為多少？每家泡沫紅茶店的銷售量為多少？ A) $P=\$9$ ， $q=2$ B) $P=\$6$ ， $q=0.5$ C) $P=\$7$ ， $q=1$ D) $P=\$10$ ， $q=2.5$
18. 下列有關完全競爭市場長期均衡的敘述何者正確？ A) 廠商賺得正的經濟利潤 B) 廠商生產在 LAC 最低點 C) 價格大於 LMC D) 廠商賺得負的經濟利潤
19. 假設台灣的豬肉市場為完全競爭產業，其產業之長期供給曲線為正斜率。今因口蹄疫導致需求下降，試問下列有關豬肉市場長期均衡調整的敘述何者正確？ A) 總產量不變，價格增加，廠商數減少 B) 總產量不變，價格不變，廠商數減少 C) 總產量下降，價格下降，廠商數減少 D) 總產量下降，價格不變，廠商數減少

20. 假設礦泉水市場為完全競爭市場，而其長期平均成本及長期邊際成本分別為 $LAC=q+100/q$ ， $LMC=2q$ ，又礦泉水的市場總需求線為 $q=8000-50P$ ，則下列敘述何者為非？ A) 長期市場中總交易量為 7000 B) 長期均衡時每家廠商的產量為 10 C) 市場上共有 600 家廠商 D) 長期市場均衡價格為 \$20
21. 由下圖中，我們發現由完全競爭市場轉變成獨佔市場，會導致社會福利的損失，相當於在圖中的 A) I PCB B) I PEC C) CBE D) CBF



22. 獨佔廠商的供給曲線是位於 A) 沒有獨佔供給曲線 B) 高於平均變動成本線最低點的邊際成本線 C) 邊際收益線上方 D) 邊際收益線下方
23. 獨佔廠商在追求利潤極大下，會生產在 A) $MR=MC$ B) AVC 最低點 C) $P=MR$ D) $P=MC$
24. 若某獨佔廠商銷售 10 單位時，其需求價格彈性為 1.5，對此一廠商而言 A) 可減少銷售量使收益增加 B) 可增加銷售量使利潤增加 C) 可減少銷售量使利潤增加 D) 可增加銷售量使收益增加
25. 關於經濟學上「失業」的描述下列何者不正確？ A) 剛畢業還在找工作中的人也算是失業。 B) 不願意屈就較低職位，而在等待好工作的林博士也算是失業。 C) 老王任職的公司被奸商掏空而倒閉，老王也算是失業。 D) 小李很懶惰不想去找工作也算是失業。
26. 下列敘述何者為非？ A) 公司對勞工的需求是一種引申需求。 B) 地表下的自然資源，如石油、礦產等也常被經濟學家歸類為「土地」這種生產要素。 C) 相同的有形要素投入生產應該就可以得到相同的產量。 D) 有形生產要素通常可以分為勞動、資本、土地。
27. 假設 Y 代表實質工資率(萬元)， X 代表就業人口(千萬人)，台灣的勞動供給曲線可以表示為 $Y = X$ ，勞動需求曲線可以表示為 $Y = 5 - X$ ，且定有實質工資率 3 萬元的薪資下限。問均衡時有多少就業人口？ A) 3 千萬人。 B) 1 千 5 百萬人。 C) 2 千 5 百萬人。 D) 2 千萬人。
28. 關於「所得不均」的衡量方式下列何者敘述是錯的？ A) 我們可以用收入最高 20% 的家庭的平均所得和收入最低 20% 的家庭的平均所得的比例來作為一種衡量的指標。 B) 我們可以計算出一種基尼係數來衡量所得不均的程度。 C) 基尼係數越接近 1 代

- 表所得分配越平均。 D) 當羅倫茲曲線越接近 45 度的直線時表示收入完全平均。
- 29.下列何者並不是物價膨脹所直接造成的現象？ A) 商店需常更改產品售價 B) 民眾購買力下降 C) 貧富差距擴大 D) 商品市場發生囤積居奇的現象
- 30.根據古典學派的看法： A) 供給自創需求 B) 政府應採行減稅政策，以刺激人民工作意願 C) 失業與經濟衰退之所以產生，是因為有效需求不足所導致 D) 價格具有僵固性
- 31.1973 年石油危機發生後，失業率與物價膨脹率同步增加，此情形稱為： A) 經濟大蕭條 B) 停滯性膨脹 C) 惡性物價膨脹 D) 泡沫經濟
- 32.下列敘述何者不正確？ A) 失業人口除以總人口為失業率 B) 年滿十五歲且有工作的人口總數稱為就業人口 C) 就業人口加上失業人口稱為勞動力 D) 年滿十五歲，可立即工作但無工作或正在找工作的人口總數為失業人口
- 33.當實際失業率等於自然失業率時，則社會上不存在下列何種失業： A) 結構性失業 B) 隱藏性失業 C) 摩擦性失業 D) 循環性失業
- 34.下列何者不會影響自然失業率： A) 失業救濟金的發放 B) 網路人力資源銀行的興起 C) 婦女與年輕人的勞動參與率提高 D) 景氣蕭條導致失業人數增加
- 35.下列何者是循環性失業： A) 一個剛畢業的大學生還未找到工作 B) 一位銀行經理打算過年後跳槽到其他銀行上班 C) 營造業工人因為不景氣而被解雇 D) 產業升級後，紡織業員工因為技能因素無法順利轉業
- 36.物價膨脹所造成的所得重分配是指： A) 實質所得不變，物價膨脹造成名目所得重分配 B) 相對價格的改變造成實質所得重分配 C) 實質所得不變，物價膨脹造成名目所得下降 D) 名目所得不變，物價膨脹造成實質所得下降
- 37.東南亞各國遭受金融風暴對於台灣的均衡產出有何影響： A) 台灣進口減少，透過乘數效果，使得總產出減少 B) 台灣進口增加，透過乘數效果，使得總產出增加 C) 台灣出口增加，透過乘數效果，使得總產出增加 D) 台灣出口減少，透過乘數效果，使得總產出減少
- 38.在開放體系下，假設邊際進口傾向為 0.1，邊際稅率為 0.0，邊際消費傾向為 0.9，若自發性消費增加 400 萬，則均衡產出增加： A) 2000 萬 B) 500 萬 C) 800 萬 D) 200 萬
- 39.下列何者是產生「節儉矛盾」的充分條件之一 A) 投資是所得的正向函數 B) 進口量為常數 C) 出口量為常數 D) 自發性消費為正
- 40.當預擬總支出不等於均衡產出時，經濟體系以下列何者作調整以達到均衡產出： A) 儲蓄 B) 利率 C) 消費 D) 存貨
- 41.中央銀行利用何種工具來影響貨幣供給？ A) 公開市場操作;改變重貼現率;改變存款準備率 B) 徵稅;公開市場操作;改變重貼現率 C) 徵稅;發行通貨;改變利率 D) 公開市場操作;發行通貨;發行公債
- 42.當一國物價水準滑落時，央行應採取什麼因應政策？ A) 提高存款準備率 B) 降低利率 C) 緊縮信用 D) 提高房屋貸款利率
- 43.當國內存在不景氣與失業的現象時，政府可採行的政策有很多，但並不包含： A) 提高存

- 款準備率 B) 通過獎勵投資條例，對投資提供租稅獎勵 C) 普遍性的減稅 D) 在公開市場買進公債
44. 中央銀行宣佈調高存款準備率，如此一來會使廠商： A) 減少生產與投資 B) 增加生產與投資 C) 增加投資，但降低生產 D) 增加生產，但降低投資
45. 若消費需求對於利率的變化相當敏感，則 A) 總合需求線不受消費對利率變化敏 B) 總合需求線愈平坦 C) 總合需求線為正斜率 D) 無跨期替代效果 E) 總合需求線愈陡直
46. 當價格上升時， A) 名目貨幣需求線右移，總合需求線右移 B) 名目貨幣需求線右移，總合需求線左移 C) 名目貨幣需求線右移，總合需求線沿線向上移動 D) 名目貨幣需求線左移，總合需求線左移 E) 名目貨幣需求線左移，總合需求線沿線向下移動
47. 若利率不變，本期所得增加，未來所得不變， A) 財富效果使當期消費增加，未來消費減少 B) 替代效果使當期消費減少，未來消費增加 C) 替代效果使當期消費增加，未來消費減少 D) 終身財富沒有變化 E) 預算線斜率不變
48. 下列對於儲蓄函數的敘述，何者正確？ A) 當期所得增加，儲蓄增加 B) 當期儲蓄為終身財富減去當期消費 C) 未來所得增加，儲蓄增加 D) 利率上升，儲蓄減
49. 中央銀行採行下列何種政策會使貨幣供給增加？ A) 在公開市場買進美元 B) 宣佈調高重貼現率 C) 在公開市場賣出持有之公債 D) 宣佈調高存款準備率
50. 下列有關匯率(exchange rate)的敘述，何者有誤？ A) 當台幣/美元的匯率由 1 美元兌 25 元新台幣變為 1 美元兌 40 元新台幣時，美元貶值。 B) 當台幣/美元的匯率由 1 美元兌 30 元新台幣變為 1 美元兌 35 元新台幣時，相對而言，台幣變便宜了。 C) 匯率是本國貨幣與外國貨幣的兌換比。 D) 當台幣/美元的匯率由 1 美元兌 35 元新台幣變為 1 美元兌 30 元新台幣時，相對而言，美元變便宜了。 E) 當台幣/美元的匯率由 1 美元兌 40 元新台幣變為 1 美元兌 25 元新台幣時，台幣升值。